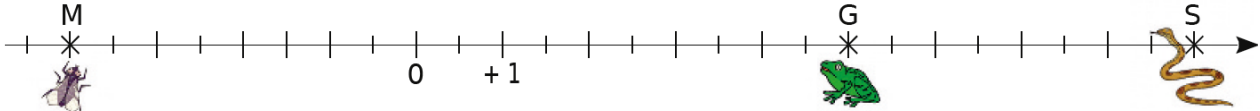


Repérage

Parcours vert

1. Repérage sur un axe gradué.
2. Repérage sur un plan.

a1. Une grenouille se promène sur un axe gradué. D'un côté de celui-ci, elle aperçoit son mets préféré : une mouche bien grasse. De l'autre côté (ô frayeur extrême !), un serpent luisant aux crochets dégoulinants de venin. De-ci de-là, il y a de belles feuilles vertes qui masquent ou bien l'une ou bien l'autre ! La grenouille (point G), le serpent (point S) et la mouche (point M) essaient, en permanence, de savoir à quelle distance ils sont les uns des autres...



1. Cet axe est gradué en centimètres. Donne les distances GS et GM.
2. Lis puis écris les abscisses des points G, S et M.
3. Comment calculer les distances GS et GM en utilisant les abscisses de G, S et M ?
4. Recommence les questions 1. à 3. avec les points G(+21), M(-12) et S(14).

b1. On a dessiné un repère du plan sur une carte de France. L'origine de ce repère est la ville de Clermont-Ferrand représentée par le point C.

Le professeur propose de chercher les coordonnées de Montpellier qui permettent de la situer par rapport au point C dans ce repère.

Voici les réponses de trois élèves de la classe : Dylan dit : « Les coordonnées de Montpellier, c'est +1. » ; Julia dit : « Les coordonnées de Montpellier sont d'abord +1 puis -3. » ; Medhi dit : « Les coordonnées de Montpellier sont d'abord -3 puis +1. ».

1. Dylan a-t-il donné suffisamment d'informations pour repérer la ville de Montpellier ?

Dans un repère du plan, combien de nombres sont nécessaires pour repérer un point ?

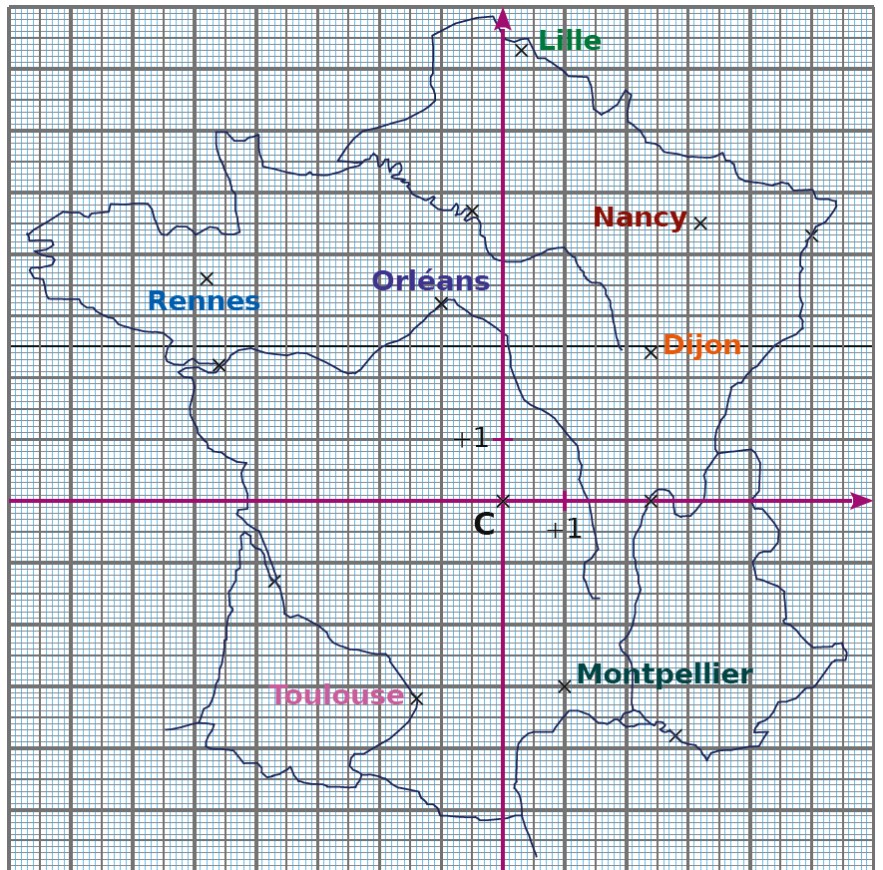
2. Les réponses de Julia et Medhi manquent de précision. Pourquoi ? Réécris-les afin qu'elles soient complètes.

3. Écris les coordonnées de Montpellier, de Rennes, de Toulouse, de Nancy et d'Orléans.

4. Donne les noms des villes dont les coordonnées sont : (+2,4 ; 0) ; (+5 ; +4,3) ; (-4,6 ; +2,2) et (-3,7 ; -1,3).

5. Quand on va d'Ouest en Est, que remarques-tu concernant le premier nombre des coordonnées ? Quand on va du Nord vers le Sud, que remarques-tu concernant le deuxième nombre des coordonnées ?

6. Fabien donne les coordonnées d'une ville du quart Nord-Est : (-0,3 ; +7,3). Luciana lui dit qu'il y a forcément une erreur. Pourquoi ? Corrige l'erreur de Fabien et nomme la ville dont il voulait parler.

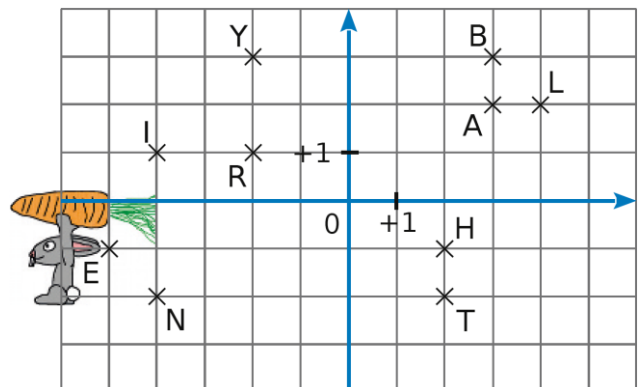


c1. Sur la grille ci-dessus, Monsieur Lapin aimerait dessiner l'itinéraire le conduisant à la carotte. Pour ce faire, il doit :

- partir du point L ;
- passer par tous les points de la figure une et une seule fois de telle sorte que deux points consécutifs aient une des deux coordonnées communes (abscisse ou ordonnée).

1. Dessine le parcours.

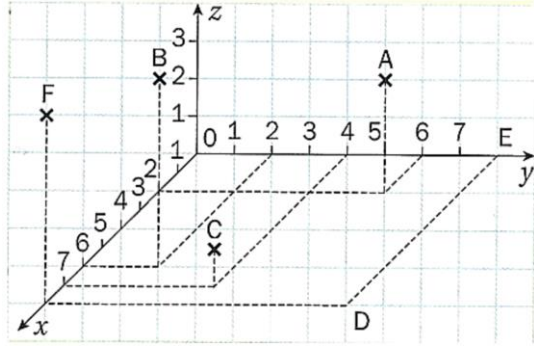
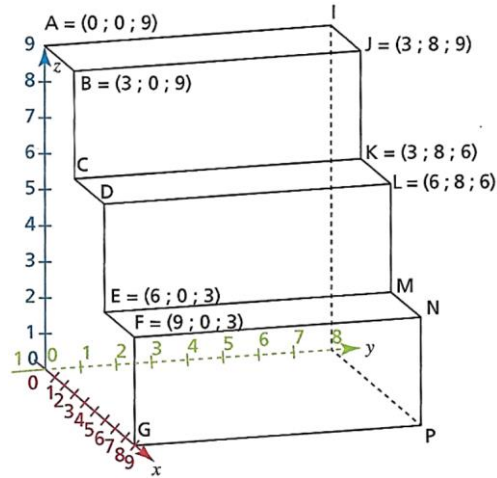
2. En écrivant dans l'ordre de passage chacune des lettres rencontrées, quel mot trouves-tu ?



Parcours bleu

1. Repérage sur un pavé droit.

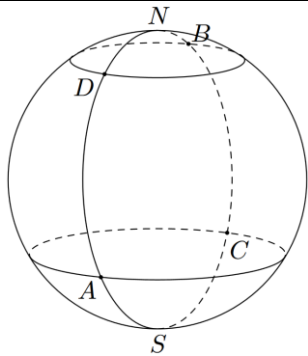
a2. Lire les coordonnées des points A, B, C, D, E et F. →



←
b2. Un escalier à marches régulières a été représenté ci-contre. Les coordonnées de certains points sont affichées. Indique les coordonnées des points : I, C, D, M, N, G et P.

Parcours rouge

1. Repérage sur une sphère.

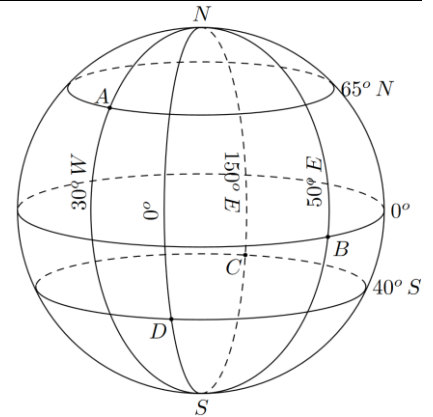


a3. On considère sur la terre, quatre points A, B, C, D où on connaît les coordonnées géographiques des points A et B : A : 30°S 10°W et B : 55°N 130°E. Détermine les coordonnées géographiques des points C et D.

←

b3. Sur la sphère ci-dessous représentant la terre, on considère les points A, B, C, D représentés ci-contre. Lis les coordonnées géographiques de ces quatre points.

→



c. En utilisant, un site de cartographie, identifie les lieux correspondants aux coordonnées suivantes :

Coordonnées	Lieu
13°09'47.3"S 72°32'41.9"W	
34°21'29.2"S 18°28'32.7"E	
22°57'06.9"S 43°12'37.7"W	
29°58'46.3"N 31°08'05.0"E	
48°51'39.7"N 2°20'09.1"E	

Coordonnées	Lieu
71.170998, 25.783168	
-55.976870, -67.272174	
46.222812, 6.138865	
46.302117, 6.026310	
27.987854, 86.925015	

d. En utilisant, un site de cartographie, trouve les coordonnées des lieux suivants : Tour Eiffel, Big Ben, Le Reculet, le Mt-Blanc, le jet d'eau de Genève, le globe de l'innovation du CERN.

c. Macu Picchu, Cap Nord, Cap de bonne espérance, Cap Horn, Christ rédempteur (Rio), Chaise cassée (ONU, Genève), Pyramide de Kheops, Source de l'Allondon, Pyramide du Louvres, Everest.

d. Tour eiffel (48.858255, 2.294331 ou 48°51'29.7"N 2°17'39.6"E) ; Big Ben (51.500711, -0.124665 ou 51°30'02.6"N 0°07'28.8"W) ; Le Reculet (46.256966, 5.929709 ou 46°15'25.1"N 5°55'47.0"E) ; Mt blanc (45.832620, 6.865173 ou 45°49'57.4"N 6°51'54.6"E) ; jet eau de Genève (46.207352, 6.155867 ou 46°12'26.5"N 6°09'21.1"E) ; globe du CERN (46.233970, 6.055701 ou 46°14'02.3"N 6°03'20.5"E).

